



TRACCIA N. 3


1. Da quale organo sono nominati gli Assessori comunali?
2. Quale organo è definibile con "organo di indirizzo e controllo politico amministrativo"?
3. Elenchi sinteticamente il candidato alcuni doveri del pubblico dipendente
4. In base all'art. 74 del D.Lgs 81/2008 e s.m.i. indichi il candidato cosa si intende per DPI?
5. Chi esercita la sorveglianza sanitaria nell'Comune, ai sensi del D.Lgs 81/2008 in materia di sicurezza sui luoghi di lavoro?
6. In quali gruppi è suddivisa la segnaletica stradale?
7. Quale forma e colori ha ed a cosa serve il segnale di obbligo?
8. Quali sono gli obblighi degli enti proprietari delle strade, allo scopo di garantire la sicurezza e la fluidità della circolazione?
9. Indichi il candidato le funzioni dei segnali orizzontali
10. Cosa indica il segnale PREAVVISO DI PARCHEGGIO (fig. II.77)
11. Cosa prescrive il segnale di inizio centro abitato, ovvero, detto segnale ha valore prescrittivo o soltanto di mera indicazione?
12. Quali valori possono avere i moduli di corsia, intesi come distanza tra gli assi delle strisce che delimitano la corsia?
13. Quando è possibile utilizzare i rallentatori di velocità?



14. Qual è il numero massimo di segnali di indicazione installabile su ogni impianto segnaletico?
15. Che differenza c'è tra il divieto di sosta ed il divieto di fermata?
16. Quanti segnali verticali è possibile installare su un singolo sostegno?
17. Quando si usano i coni o i delineatori flessibili?
18. Come si ottiene la visibilità del personale operante in un cantiere stradale? C'è differenza tra il giorno e la notte?
19. Qual è la dimensione normale, per strade di centro abitato con limite di velocità non superiore a 50 Km/h, dei segnali di seguito indicati: divieto – obbligo – pericolo?
20. A che distanza massima dall'intersezione può essere posto il segnale di dare precedenza in una strada di centro abitato?
21. Di quale colore possono essere realizzati gli stalli di sosta e qual è il relativo significato?
22. In centro abitato, che lunghezza deve avere il singolo elemento di una linea tratteggiata delimitante le corsie di marcia? Quanto spazio deve intercorrere tra ogni segmento di linea?
23. Nel centro abitato, qual è l'altezza minima della linea d'arresto in presenza del segnale fermarsi e dare la precedenza?
24. Sulle strade interne al centro abitato qual è la larghezza minima che deve avere la striscia longitudinale continua di mezzzeria?



25. Il sostegno di un segnale stradale, a che distanza minima dal cordolo del marciapiede, interno alla carreggiata, può essere installato?
26. A quale altezza minima da terra deve essere posizionato il bordo inferiore di un segnale verticale nel caso di installazione sul marciapiede o comunque in zona frequentata da pedoni?
27. Di quale materiale devono essere generalmente i supporti dei segnali stradali?
28. La dimensione dei segnali verticali è vincolata alle categorie di strada in cui sono impiegati?
29. Che funzione ha il pannello integrativo nella segnaletica verticale?
30. Qual è la funzione assegnata ai segnali complementari?

A handwritten signature in black ink, consisting of stylized, cursive letters that appear to be 'AA' or similar, located in the lower right quadrant of the page.

TRACCIA N. 1

1. Quali sono gli organi del comune?
2. Da chi è composto e chi elegge il Consiglio Comunale?
3. Quale organo esercita nel comune il potere gestionale?
4. In base all'art. 74 del D.Lgs 81/2008 e s.m.i. indichi il candidato cosa si intende per DPI?
5. Chi esercita il ruolo di datore di lavoro, ai fini della sicurezza sui luoghi di lavoro?
6. In quali gruppi è suddivisa la segnaletica stradale?
7. Quale forma e colori ha ed a cosa serve il segnale di divieto?
8. Quali sono gli obblighi degli enti proprietari delle strade, allo scopo di garantire la sicurezza e la fluidità della circolazione?
9. Indichi il candidato le funzioni dei segnali di indicazione e relativa suddivisione
10. Cosa indica il segnale DIVIETO DI FERMATA (fig. II.75)
11. A che distanza massima dall'intersezione può essere posto il segnale di dare precedenza in una strada di centro abitato?
12. Qual è la funzione assegnata ai segnali complementari?
13. Di che forma sono i segnali di obbligo?
14. Di che forma sono i segnali di pericolo?
15. Qual è la dimensione normale, per strade di centro abitato con limite di velocità non superiore a 50 Km/h, dei segnali di seguito indicati: divieto – obbligo – pericolo?



16. È prevista una distanza di avvistamento per la segnaletica verticale? In caso affermativo c'è un criterio in base al quale calcolare la distanza di avvistamento?
17. Quali segnali devono essere usati per il segnalamento di un cantiere temporaneo e qual è il colore di fondo di detti segnali?
18. Quando si usano i coni o i delineatori flessibili?
19. Come si ottiene la visibilità del personale operante in un cantiere stradale? C'è differenza tra il giorno e la notte?
20. Come si attua un senso unico alternato e in quali modi può essere disciplinato?
21. Quanti segnali verticali è possibile installare su un singolo sostegno?
22. Che differenza c'è tra il divieto di sosta ed il divieto di fermata?
23. Che differenza c'è tra divieto di transito e senso vietato?
24. Qual è il colore di fondo dei segnali di obbligo?
25. In quale ordine, rispetto al colore di fondo, vanno posizionati i segnali di indicazione?
26. Qual è il numero massimo di segnali di indicazione installabile su ogni impianto segnaletico?
27. Cosa si intende per cantiere mobile?
28. Cosa prescrive il segnale di inizio centro abitato, ovvero, detto segnale ha valore prescrittivo o soltanto di mera indicazione?
29. Quando è possibile utilizzare i rallentatori di velocità?
30. Quale colore di segnaletica orizzontale si utilizza per contrassegnare la segnaletica di cantiere?

